

公共, 政治・経済

(60分)

注意事項

1. 試験問題は、問1～問35まであります。

解答用紙(マークシート)には、問題番号が1～50、選択肢が①～⑩まで印刷されていますが、解答にあたっては、問1～問35までの各設問に指示された選択肢の数の中から選んで解答してください。

2. 解答する科目、受験番号、解答が正しくマークされていない場合は、採点できないことがあります。

問題 I

学生Aと学生Bは、金融論を学ぶゼミに所属している。金融の意義と役割についての講義の後、卒業論文のテーマを何にするか話し合っている。これに関して、後の問い(問1～12)に答えよ。

A：Bさん、卒業論文のテーマだけども、金融の役割ってテーマだと大きすぎるかな？

B：そうだね。金融の役割はかなり大きなテーマだと思う。例えばだけれど、卒業論文のテーマを間接金融や直接金融に少し絞ってはどうか？

A：なるほどね、でも、中央銀行の役割というテーマも捨てがたいと思うんだ。

B：面白いとは思いますが、卒業論文のテーマとして中央銀行は少し大きすぎないかな。

中央銀行は国家の金融の中心として、金融市場に働きかける。例えば公開市場操作や預金準備率操作などがあるよね。こっちをテーマにすると金融政策っぽくなりそうな気がする。それから、1990年代初頭のバブル崩壊も研究対象として考えられるかもしれないね。そういう話を研究テーマにするのも興味深いと思うよ。でも、君は、就職先として金融機関を希望していたよね？

A：そうだな、やはり金融機関の話を盛り込みたいから、間接金融をテーマにして考えてみようかと思うよ。

B：私は、日本銀行をテーマにしたいと考えている。(7)年に導入されたマイナス金利政策などは日本銀行の政策だったよね？さまざまな政策があって、お金が循環して、その循環したお金が私の手元にくると思うと楽しいよ。そういえば、Aさん、銀行が破綻した場合は、預金ってどうなるんだっけ？

A：そこは、ペイオフという制度があるよ。まあ、預金が少ない私には関係ないけどね。

B：あははは、そうとも限らないよ。1980年代以降は金融自由化が進んで、良い条件の商品が増えたよ。

A：なら、金融商品も見てみようかと思うよ。今、普通預金が15万円ちょっとあるから、少額からできる金融商品を探してみたいけど、金融商品って、景気に左右されないかな？

B：Aさん、景気が悪いときには、日本銀行は金融緩和をするし、景気が良い時には、引き締めたりするよ。お金の動きそのものに不思議な魅力を感じるよ。

A：そうだね、今日学んだ、信用創造の話とか、確かにわくわくしたよね。

B：私は、金融政策の対象としてのインフレと、デフレの話が印象に残ったな。お金と仲良くするって、とても大切なことだと思うよ。

問 1 下線部(1)の特徴として最も適当なものを、後の①～④のうちから一つ選べ。

- ① 間接金融では、金融機関がリスクを引き受け、預金と貸出の金利の利ざやで利益を得る。
- ② 直接金融では、金融機関が必ず資金を全額保証する。
- ③ 間接金融と直接金融はともに債券で支払われる。
- ④ 直接金融では、預金者の預金が自動的に株式に転換される。

問 2 下線部(2)の役割として最も適当なものを、後の①～④のうちから一つ選べ。

- ① 全ての金融機関の収益を保証し安定させる。
- ② 通貨の供給量を調整して、景気や物価を安定させる。
- ③ 政府予算を直接調整し景気を安定させる。
- ④ 消費税率やさまざまな税率に関与し税を安定させる。

問 3 下線部(3)の説明として最も適当でないものを、後の①～④のうちから一つ選べ。

- ① 中央銀行が国債などを買うと、市場にお金を供給し、金利を上げる効果がある。
- ② 中央銀行が国債などを売ると、市場からお金を吸収し、金利を上げる効果がある。
- ③ 経済状況に合わせて市場に出回るお金の量を調整し、物価の安定や景気の調整をする。
- ④ 金融市場で手形、国債などの売買を行い、市中に流通する通貨量を調整する。

問 4 下線部(4)の説明として最も適当なものを、後の①～④のうちから一つ選べ。

- ① 銀行が日銀に預ける準備金の割合を調整し、貸出余力を変える。
- ② 銀行の利益を保証するための制度である。
- ③ 預金保険制度と同じ仕組みである。
- ④ 政府が銀行の経営方針を決定するために行われる。

問 5 下線部(5)の影響として最も適当でないものを、後の①～④のうちから一つ選べ。

- ① 新卒採用の増加が続き、雇用情勢が好転した。
- ② 株価や不動産価格が暴落し、企業の資産価値が大幅に減少した。
- ③ 物価が下落し続けるデフレーションに陥り、企業の収益が悪化した。
- ④ 資金繰りが悪化した企業が倒産し、失業率が上昇した。

問 6 下線部(6)の役割の組合せとして最も適当なものを、後の①～④のうちから一つ選べ。

- ① 発券銀行 政府の銀行 銀行の銀行
- ② 市民の銀行 不正取引や相場操縦などを防止 銀行の銀行
- ③ 発券銀行 最後の貸し手 市民の銀行
- ④ 銀行の銀行 公平な賦課及び徴収の実現 最後の貸し手

問 7 空欄(7)に当てはまる数値として正しいものを、後の①～④のうちから一つ選べ。

- ① 2009 ② 2016 ③ 2019 ④ 2020

問 8 下線部(8)の内容として最も適当なものを、後の①～④のうちから一つ選べ。

- ① 預金者 1 人あたり、金融機関ごとに元本 1,000 万円とその利息が保護される。
② 預金者 1 人あたり、すべての預金額が保護される。
③ 預金者 1 人あたり、金融機関ごとに元本 2,000 万円まで保護される。
④ 預金者 1 人あたり、すべての預金額が保護されるが利息は保護されない。

問 9 下線部(9)によって起きた現象として最も適当でないものを、後の①～④のうちから一つ選べ。

- ① 金融機関以外の業種からの銀行や証券などへの新規参入が進んだ。
② 市場原理に基づいた金利競争が起こるようになった。
③ ペイオフの必要性がなくなり廃止されることとなった。
④ 資金調達コストや運用収益に影響が出るようになった。

問10 下線部(10)に対してとる政策の組合せとして最も適当なものを、後の①～④のうちから一つ選べ。

- | | | |
|------------|------|-----------|
| ① 政策金利引き上げ | 国債買入 | 預金準備率引き下げ |
| ② 政策金利引き上げ | 国債売却 | 預金準備率引き上げ |
| ③ 政策金利引き下げ | 国債買入 | 預金準備率引き上げ |
| ④ 政策金利引き下げ | 国債売却 | 預金準備率引き下げ |

問11 下線部(11)の説明として最も適当なものを、後の①～④のうちから一つ選べ。

- ① 銀行が顧客の信用を保証するために資産を担保とすること。
② 銀行が預金の受け入れと貸出を繰り返すことで、当初の何倍もの預金を生み出すこと。
③ 社会全体の通貨量を低下させることで、貨幣の信用を取り戻すこと。
④ 中央銀行が紙幣を印刷して市中の通貨量を増やすこと。

問12 下線部(12)の説明として最も適当なものを、後の①～④のうちから一つ選べ。

- ① 消費者は商品の価格の低下を期待し、購入を控えるようになる。
② 生活必需品や食料品などを、買いだめする人が増える。
③ 同じ金額でより多くのモノやサービスを購入できる。
④ 企業は売れ残りを避けるため、さらに値下げをする。

次ページ以降にも問題があります。

問題 II

以下の会話文は、生徒Aと生徒Bが「政治・経済」の授業において、「国際社会と安全保障・人道問題」というテーマについて話し合っているものである。この会話文を読み、後の問い(問13～18)に答えよ。

A：最近、国際政治で主権国家と国際法の関係を学んだけれど、⁽¹³⁾ 国家の自主性と協調をどう両立させるかはやっぱり難しいね。

B：確かに。国連の安全保障理事会は平和維持を担うけれど、⁽¹⁴⁾ 常任理事国の拒否権のせいで国連平和維持活動(PKO)の派遣が停滞する例もあるし。

A：でも持続可能な開発目標(SDGs)は国境を越えて企業や市民も参加し、⁽¹⁵⁾ 貧困と環境の課題を同時に解決しようとしているのが面白いよね。

B：環境と言えば核兵器のリスクも地球規模だよ。核兵器などの軍縮は進んだけれど、⁽¹⁶⁾ 中距離核戦力全廃条約(INF 全廃条約)失効みたいに信頼が揺らぐ場面もあつたし。⁽¹⁷⁾

A：紛争が続くと難民が増えて国連難民高等弁務官事務所の支援要請も急増するよね。日本は資金拠出を続けているけれど⁽¹⁸⁾ 受入体制はまだ課題かな。

B：結局、国際法を生かすには市民の理解と経済の相互依存も鍵になるから、教科書だけでなくニュースも追わなきゃね。

問13 下線部(13)に関する記述として誤っているものを、後の①～④のうちから一つ選べ。

- ① 国家主権はウエストファリア条約を原型として18世紀にかけて確立した。
- ② 国際慣習法は条約と同等に国際法の源とされ、外交特権などを規定してきた。
- ③ 国際司法裁判所(ICJ)は当事国の同意がなくても強制管轄権を行使できる。
- ④ 国際法は、適用時による分類として、平時国際法と戦時国際法とがある。

問14 生徒Aと生徒Bは、下線部(14)に興味を持ち、「政治・経済」の授業で配布された次の資料を読み返している。資料中の空欄(ア)，(イ)に当てはまる数字の組合せとして正しいものを、後の①～④のうちから一つ選べ。

国連安全保障理事会は合計(ア)か国の理事国から構成され、そのうちアメリカ・イギリスなど(イ)か国が常任理事国で拒否権を持つ。非常任理事国は地域バランスを考慮して総会で選出され、任期は2年である。

- ① ア：10, イ：5
- ② ア：15, イ：5
- ③ ア：15, イ：6
- ④ ア：20, イ：5

問15 生徒Aと生徒Bは、下線部(15)に関して興味を持ち、関連する新聞記事を読み返している。新聞記事中の空欄(ア)、(イ)、(ウ)に当てはまる語句として正しい組合せを、後の①～④のうちから一つ選べ。

国連と連携する国際的な研究組織「持続可能な開発ソリューション・ネットワーク(SDSN)」は24日、各国のSDGs達成状況をまとめた「持続可能な開発レポート2025」を発表した。

日本は昨年の18位から順位を下げたが、欧州以外の国ではトップだった。全体では、フィンランドが5年連続で1位だった。

報告書は17目標ごとの達成状況を4段階で評価。日本は「持続可能な農業」(目標2)、「(ア)」(目標5)、「責任ある消費と生産」(目標12)、「気候変動対策」(目標13)、「海の環境保全」(目標14)、「陸の環境保全」(目標15)が「深刻な課題がある」とされる最低評価となった。

表1 達成度ランキングの上位国と主な国の順位

	国名
1位	フィンランド
2位	(イ)
3位	デンマーク
4位	ドイツ
5位	フランス
11位	英国
19位	日本
34位	(ウ)

朝日新聞 2025年06月25日朝刊社会総合面より作成。

- ① ア：貧困の撲滅, イ：スウェーデン, ウ：韓国
- ② ア：貧困の撲滅, イ：韓国, ウ：スウェーデン
- ③ ア：ジェンダー平等, イ：韓国, ウ：スウェーデン
- ④ ア：ジェンダー平等, イ：スウェーデン, ウ：韓国

問16 生徒Aと生徒Bは、下線部(16)に関して話し合っている。次の会話文中の空欄(ア)、(イ)、(ウ)に当てはまる語句の組合せとして正しいものを、後の①～⑥のうちから一つ選べ。

A：(ア)は、1960年代末から70年代末まで行われた米ソ間での交渉だよね。

B：そうそう。けれども、軍拡競争による経済的負担に耐えかねての交渉だったから、両国間の戦力調整としての側面が強くて、本格的な軍縮は1982年から始まる(イ)からなんだ。

A：(イ)では、戦略核弾頭数を6,000に削減するなどの内容の条約が結ばれたんだよね。

B：その後のソ連の解体に伴って、その際に結ばれた条約の義務は、ロシア、カザフスタン、ウクライナ、(ウ)が引き継いだんだ。

- ① ア：戦略兵器制限交渉(SALT), イ：戦略兵器削減交渉(START),
ウ：ベラルーシ
- ② ア：戦略兵器削減交渉(START), イ：戦略兵器制限交渉(SALT),
ウ：ベラルーシ
- ③ ア：戦略兵器制限交渉(SALT), イ：戦略兵器削減交渉(START),
ウ：セルビア
- ④ ア：戦略兵器削減交渉(START), イ：戦略兵器制限交渉(SALT),
ウ：セルビア
- ⑤ ア：戦略兵器制限交渉(SALT), イ：戦略兵器削減交渉(START),
ウ：東ドイツ
- ⑥ ア：戦略兵器削減交渉(START), イ：戦略兵器制限交渉(SALT),
ウ：東ドイツ

問17 生徒Aと生徒Bは、下線部(17)に興味を持ち、「政治・経済」の授業で配布された次の資料を読み返している。資料中の空欄(ア)，(イ)に当てはまる数字の組合せとして正しいものを、後の①～④のうちから一つ選べ。

表2は、軍縮が停滞する仕組みを示した典型例である。軍縮前の両国の安全度はそれぞれ2点である。両国が歩調を合わせて兵器を削減すれば、安全度は双方とも4点に高まる。しかし、一方だけが削減し相手国が応じない場合、削減した側の安全度は下がり、削減しなかった側は逆に安全度が上がると見なしてしまう。そのため、自国だけ協調するよりも「協調しない」方が得策だと判断されやすく、結果として両国とも「協調しない」を選び、軍縮が進まなくなる。

表2 軍縮が停滞する仕組み

		B国	
		協調する	協調しない
A国	協調する	A国に4点 B国に4点	A国に(ア)点 B国に(イ)点
	協調しない	A国に(イ)点 B国に(ア)点	A国に2点 B国に2点

- ① ア：1，イ：5
- ② ア：2，イ：1
- ③ ア：5，イ：1
- ④ ア：1，イ：2

問18 下線部(18)の略称として正しいものを、後の①～④のうちから一つ選べ。

- ① UNCTAD ② UNESCO ③ UNHCR ④ UNICEF

次ページ以降にも問題があります。

問題Ⅲ

以下の会話文は、生徒Aと生徒Bが「政治・経済」の授業において、「海洋資源と領域主権」というテーマについて話し合っているものである。この会話文を読み、後の問い(問19～24)に答えよ。

A：最近、海洋資源管理の授業で水域について学んだけれど、領海や接続水域、排他的経済水域(EEZ)などたくさんの分類⁽¹⁹⁾があったから、ちょっと混乱⁽²⁰⁾しちゃって。

B：日本の面積は約38万km²で、世界で61番目の広さだけれど、領海とEEZはどれくらいの広さなのか知っている？

A：日本は面積も小さいから、領海とEEZも小さいと思う。

B：日本は、北海道、本州、四国、九州など多数の島で構成されているから、領海とEEZは約447万km²と広くて、世界の中で6番目の広さなんだ。

A：それはとても広いね。知らなかったよ。

B：(21)は、満潮時にわずかに露出する小島で、消失すれば広大なEEZも失われる恐れがあるから、政府は保全工事を行ったんだ。

A：今、教科書を読んだら、1海里は1.85kmあるんだ。そして、その島の周囲に設定されたEEZは約(22)万km²もあって、日本の国土面積を上回ると書いてある。

B：日本は島国だから小さな国だと思えるかもしれないけれど、領海とEEZで見たらとても大きな国なんだよ。

A：ところで、領海で思い出したのだけれど、領空や公空という概念もあるよね。

B：領空は国家の主権が及ぶ空域のことだね。⁽²³⁾主権が及ぶのは大気圏までで、宇宙には領有権が認められていないんだ。

B：宇宙開発が盛んになったら、新たな条約が採択されるのかもしれないね。

問19 下線部(19)に関連する概念を表3に整理した。表3の空欄(ア), (イ)に当てはまる数字の組合せとして正しいものを, 後の①~④のうちから一つ選べ。

表3 海域の海里別区分表

海域	範囲
領海	領海の基線から(ア)海里
接続水域	領海の外側で, 領海の基線から(イ)海里

- ① ア:12, イ:24
- ② ア:20, イ:124
- ③ ア:20, イ:24
- ④ ア:12, イ:124

問20 下線部(20)に関する記述として誤っているものを, 後の①~④のうちから一つ選べ。

- ① 国連海洋法条約に規定されている。
- ② 日本では「領海及び接続水域に関する法律」で定められている。
- ③ 沿岸国の出入国管理などの特定の行政的規制を行うための水域である。
- ④ 各国の主権や一定の権限が及ばず, 自由に使用・航行できる国際水域である。

問21 空欄(21)に当てはまる語句として正しいものを, 後の①~④のうちから一つ選べ。

- ① 南鳥島 ② 択捉島 ③ 与那国島 ④ 沖ノ鳥島

問22 空欄(22)に当てはまる数字として最も適当なものを, 後の①~④のうちから一つ選べ。

- ① 10万 ② 40万 ③ 70万 ④ 100万

問23 下線部(23)に関する説明ア, イ, ウのうち正しい記述の組合せを, 後の①~⑦のうちから一つ選べ。

ア: 領空とは, 領土と領海の上空を指す。

イ: 領空では, 許可を受けなければ, 他国の飛行機は飛行できない。

ウ: 公空とは, EEZと公海の上空や領空など全ての空域を指す。

- ① ア ② イ ③ ウ ④ ア, イ
- ⑤ ア, ウ ⑥ イ, ウ ⑦ ア, イ, ウ

問24 生徒Aと生徒Bは、海洋資源についてさらに関心を持ち、関連する新聞記事を読み返している。図1～3のうち記事の内容に沿う説明として正しい図の組合せを、後の①～⑦のうちから一つ選べ。

【海洋境界交渉，再び暗礁に】

202X年6月15日，A国とB国は重複するEEZ・大陸棚の境界線画定を巡り国際海洋法裁判所(ITLOS)での仲裁手続きを正式に開始した。争点は双方の沿岸から200海里以内に存在するガス田だ。A国は「中間線原則」を主張する一方，B国は「自然延長説」に基づき自国大陸棚の延長を強調。両国は2010年に暫定合意で共同開発を試みたが環境影響評価を巡り協議が停滞していた。国際海洋法裁判所は2026年末までに判断を示す予定で，判定如何では地域のエネルギー安全保障や投資計画に大きな影響が及ぶ可能性がある。

図1

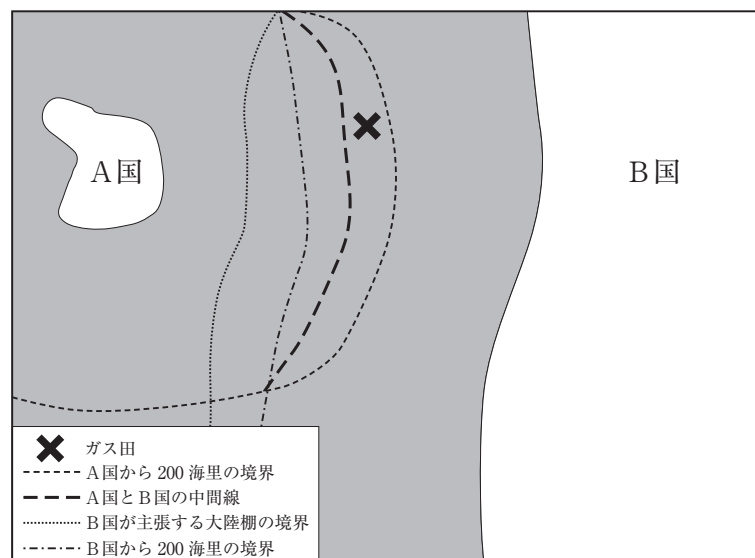


図 2

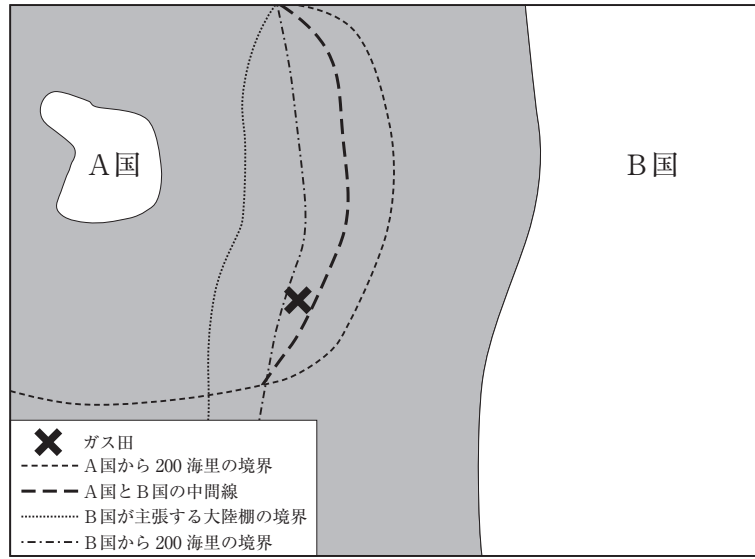
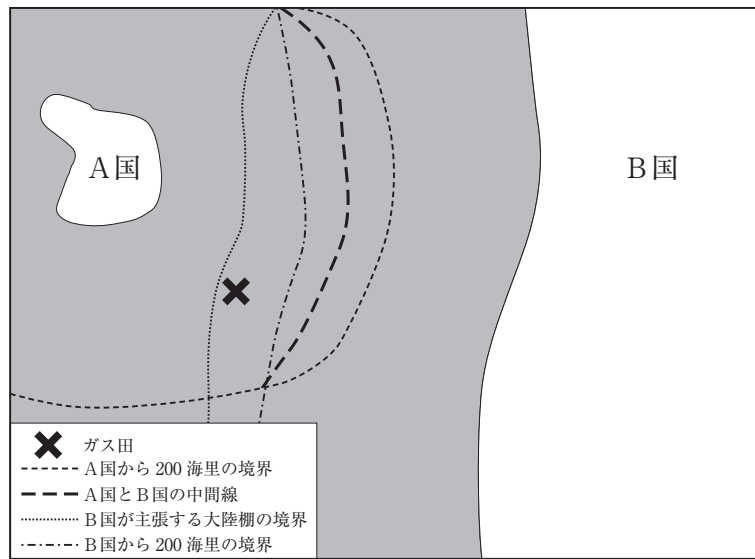


図 3



- ① 図 1
- ② 図 2
- ③ 図 3
- ④ 図 1 と図 2
- ⑤ 図 1 と図 3
- ⑥ 図 2 と図 3
- ⑦ 図 1 と図 2 と図 3

問題Ⅳ

以下は、高校での探求学習で「環境問題の歴史」を学んでいる生徒A～Cの3人の会話である。この会話文を読み、後の問い(問25～35)に答えよ。

A：今日の講座は、深刻な話が多くて、改めて環境問題の重要性がわかったような気がしました。

B：私は、環境問題は最近のことだと思っていたのが、明治時代からあったのが衝撃的でした。

A：ああ、足尾銅山鉍毒事件だね。日本の公害が社会問題として広く注目を集めた原点であるといわれています。⁽²⁵⁾

C：私もBさんほどではないけれど、私たちが生まれる前の環境問題の話が印象に残っています。

特に、熊本の^{みなまた}水俣病、イタイイタイ病、四日市ぜんそく、新潟水俣病のいわゆる四大公害裁判までは公害に苦しむ住民の訴えが認められなかったのには驚きました。⁽²⁶⁾

A：その当時の裁判で確立した判例は、今でも通用するものなんですよ。それにしても、被害が深刻になってから、環境に関する法律の整備も急速に進められたというのは、聞いていてとても残念な気がしました。⁽²⁷⁾

B：今日の講義は、これまでの環境問題の歴史でしたが、私たちのグループで探求するのは環境問題のどんなテーマにしようか。

C：先生からのアドバイスとしては、地球規模の環境問題か身近な環境問題かを最初に決めるのがいいという話でしたが。

B：地球規模というと、温暖化でしょうか？温暖化対策の国際的な取り決めが作られたのは聞いたことがあります。⁽²⁸⁾

A：そもそも温暖化の仕組みについては色々な意見があるみたいだけれども、教科書などに載っている説明では、人間の経済活動によって排出される二酸化炭素などの温室効果ガスが原因とされていますよね。⁽²⁹⁾

C：経済活動によって排出される温室効果ガスって、例えばどんなものがあるのですか？

A：私も詳しくはわからないけど、電力を発電する火力発電所は二酸化炭素を排出していますよね。⁽³⁰⁾

B：たしかにそうですね。でも、水力発電とか原子力発電もありますし、最近では太陽光発電などの再生可能エネルギーもよくニュースになっています。⁽³¹⁾

C：地球温暖化はたしかに重要だけれど、技術的なことや政策などが複雑な気もします。身近なところから考える環境問題の方が取り組みやすいのではないのでしょうか。

A：例えば、ゴミを捨てないとか？⁽³²⁾

C：それもあるし、最近レジ袋やプラスチックストローの利用を減らそうとしているの⁽³³⁾

も、環境問題を意識しているんじゃないの。

B：たしかにそうですね。でも、そのあたりのレジ袋を辞退するとかは、今では当たり前になってきているけれど、昔はどうだったんだろう？レジ袋の歴史を調べるのも、⁽³⁴⁾環境の探求学習としてありなんじゃないのかな。

A：それは面白そうだね。レジ袋が有料化される前から、マイバッグ持参を推奨するキャンペーンをやっていたスーパーもあった気がします。

C：地球温暖化にしても、プラスチックごみにしても、個人的には便利なことが社会的には大きな損害をもたらしているんだよね。⁽³⁵⁾どうやって解決したらいいか先が見えない気がするよ。

問25 下線部(25)に関連する人物として最も適当なものを、後の①～④のうちから一つ選べ。

- ① 板垣退助 ② 市川房枝 ③ 川上音二郎 ④ 田中正造

問26 下線部(26)に関する説明として最も適当でないものを、後の①～④のうちから一つ選べ。

- ① 新潟水俣病では、工場排水からの水質汚濁^{おどく}が食物連鎖を通じて引き起こされた。
② イタイイタイ病は、製鉄所からの大気汚染が原因であった。
③ 国の認定基準では水俣病と認められなかった住民の救済が、長く問題となってきた。
④ 四日市ぜんそく訴訟では、コンビナートの企業6社の共同責任が追及された。

問27 下線部(27)に関する説明として正しいものを、後の①～④のうちから一つ選べ。

- ① 企業活動と公害の関係は、原告の住民側に立証する責任があるとされた。
② いずれの裁判でも企業の責任が認められたが、損害の賠償は政府のみが行うものとされた。
③ 住民の被害が企業の利益よりも大きかったことが、住民側の訴えが認められた理由であった。
④ 大気汚染や水質汚濁については、公害の発生源の企業に過失がなくても、責任を負うとされた。

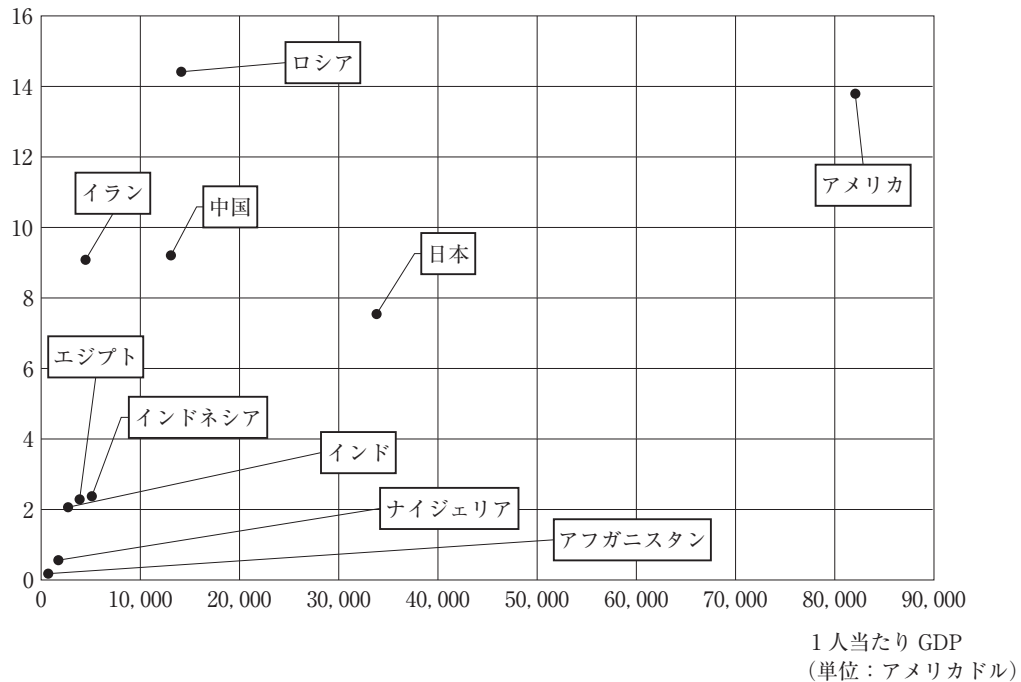
問28 下線部(28)に関する説明として最も適当なものを、後の①～④のうちから一つ選べ。

- ① 1997年に採択された京都議定書を、アメリカは^{ひじゅん}批准しなかった。
② 1997年に採択された京都議定書では、発展途上国に対して温室効果ガスの排出削減を求めた。
③ 2015年に採択されたパリ協定を、日本は批准していない。
④ 2015年に採択されたパリ協定では、先進国は温室効果ガスの排出を現状から増やさなければよいとされた。

問29 下線部(29)についてインターネットで検索したところ、下の図4の資料を見つけることができた。この図4から導かれる考えとして最も適当なものを、後の①～④のうちから一つ選べ。

図4 国別の1人当たりGDPと1人当たり二酸化炭素排出量(2023年)

1人当たり二酸化炭素排出量
(単位：トン)

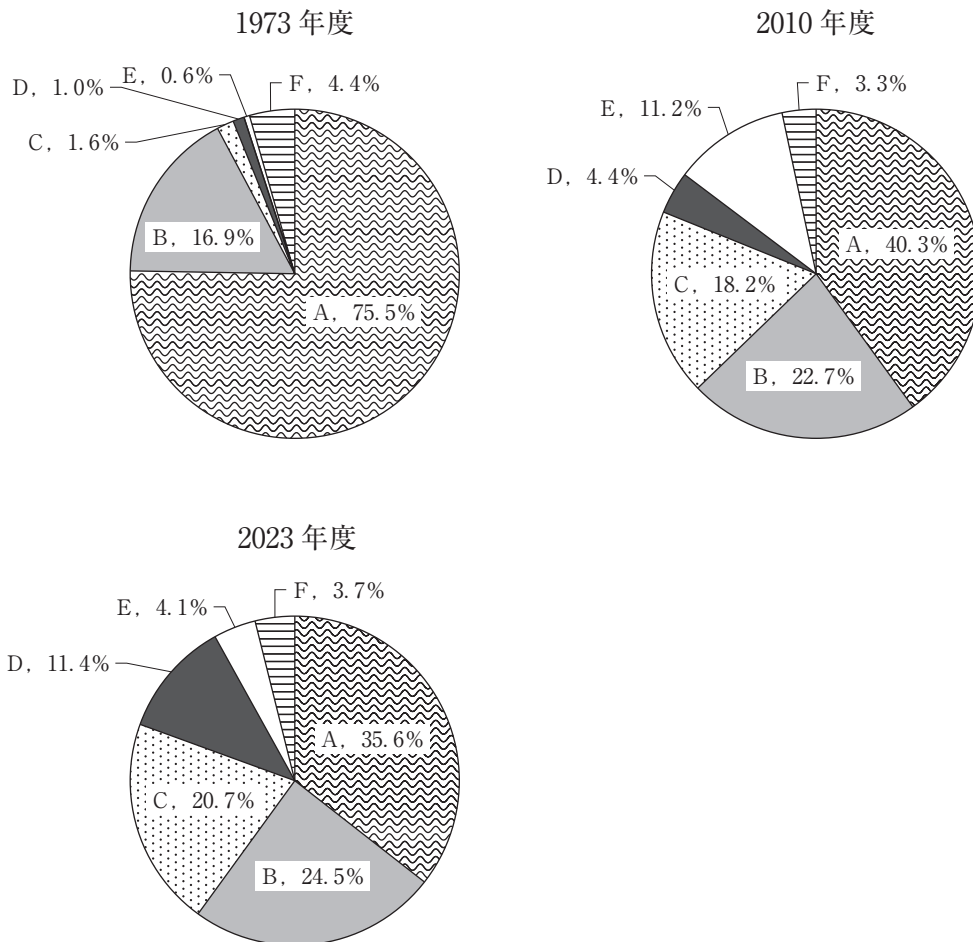


World Economic Outlook, EDGAR のデータより作成。

- ① 1人当たりの二酸化炭素排出量は、1人当たりGDPと逆方向に変化する傾向があり、今後開発途上国が経済発展を遂げると、二酸化炭素排出量も増加すると予想される。
- ② 1人当たりの二酸化炭素排出量は、1人当たりGDPと逆方向に変化する傾向があり、今後開発途上国が経済発展を遂げると、二酸化炭素排出量は減少すると予想される。
- ③ 1人当たりの二酸化炭素排出量は、1人当たりGDPと同方向に変化する傾向があり、今後開発途上国が経済発展を遂げると、二酸化炭素排出量も増加すると予想される。
- ④ 1人当たりの二酸化炭素排出量は、1人当たりGDPと同方向に変化する傾向があり、今後開発途上国が経済発展を遂げると、二酸化炭素排出量は減少すると予想される。

問30 下線部(30)に関連して，下の図5はこれまでの日本の一次エネルギーの構成割合を示している。A～Fは「液化天然ガス」，「原子力」，「再エネ等(再生可能エネルギー等)」，「水力」，「石炭」，「石油」である。AとEの組み合わせとして正しいものを，後の①～⑥のうちから一つ選べ。

図5 日本の一次エネルギー供給構成の推移



資源エネルギー庁「日本のエネルギー2024」より作成。

※端数を四捨五入した関係で，合計が100%にならない場合がある。

- | | | | |
|----------|----------|----------|----------|
| ① A：原子力 | E：液化天然ガス | ② A：原子力 | E：水力 |
| ③ A：再エネ等 | E：石炭 | ④ A：再エネ等 | E：液化天然ガス |
| ⑤ A：石油 | E：原子力 | ⑥ A：石油 | E：再エネ等 |

問31 下線部(31)に関連して再生可能エネルギーの比率を高めるために、日本で行われている政策として最も適当なものを、後の①～④のうちから一つ選べ。

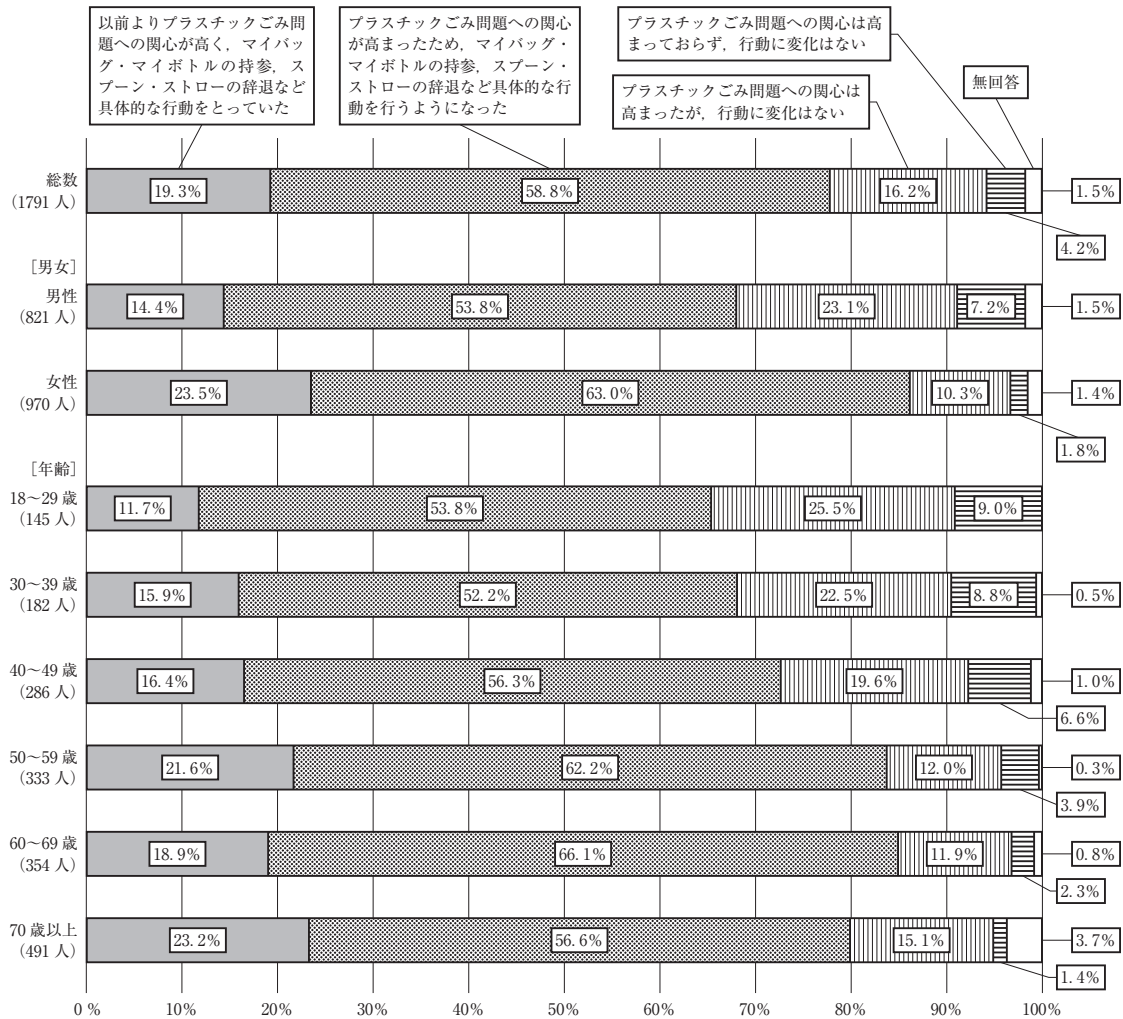
- ① 個人住宅に設置されたソーラーパネル発電など再生可能エネルギーで発電された電力を、一定の価格で電力会社が買い取る。
- ② 大規模な工場やショッピングセンターには、風力発電所を設置することが義務づけられている。
- ③ 火力発電所の新設は2010年以降禁止されている。
- ④ 家庭での消費電力を減らすために、業務用以外での電気自動車の使用を制限している。

問32 下線部(32)に関連して、環境問題の3Rの原則(リデュース, リユース, リサイクル)の説明文として誤っているものを、後の①～④のうちから一つ選べ。

- ① 買い物に行くときにマイバッグを持参するのは、リサイクルである。
- ② すぐに食べる予定がある場合に店頭で賞味期限が近い品物を選ぶのは、リデュースである。
- ③ 着なくなった洋服を捨てずにフリーマーケットなどで出品するのは、リユースである。
- ④ 新聞の定期購読を紙から電子版に切り替えるのは、リデュースである。

問33 下線部(33)について、先生に相談に行ったところ、下の図6の資料を見せてもらうことができた。2020年にいわゆるレジ袋の有料化が義務となった際に、内閣府が行った意識調査の一部である。この資料から読み取れる内容として最も適当なものを、後の①～④のうちから一つ選べ。

図6 レジ袋有料化や新法施行による関心や行動の変化



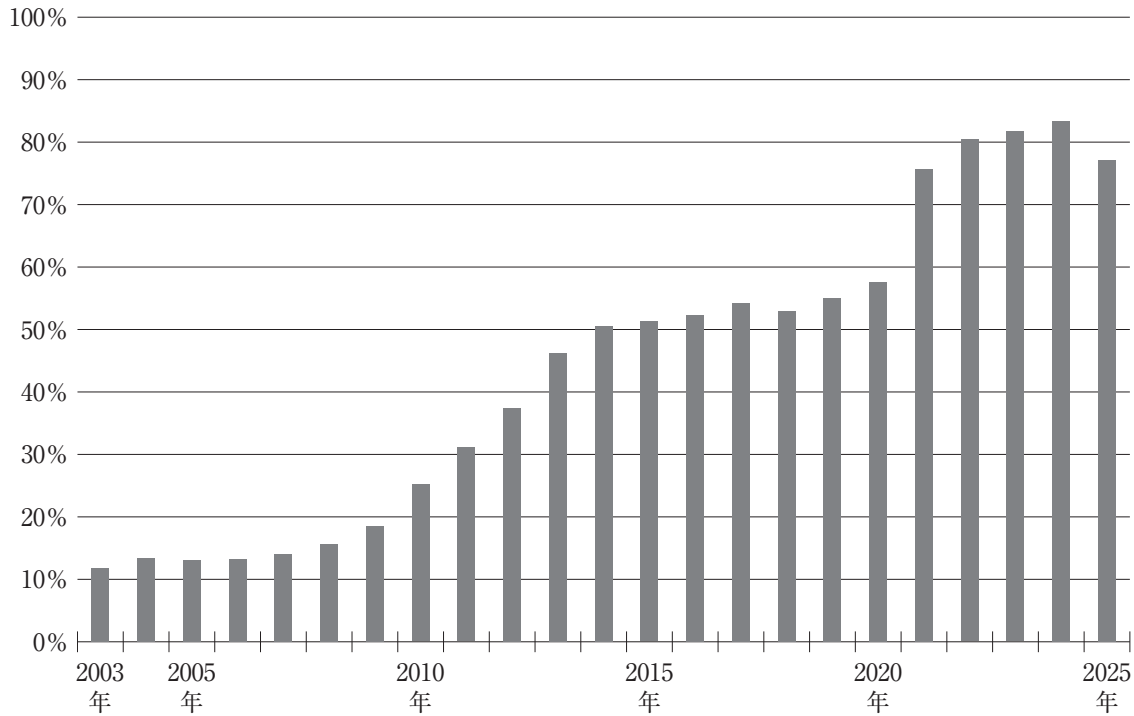
内閣府ホームページに掲載の「プラスチックごみ問題に関する世論調査」より作成。

※端数を四捨五入した関係で、合計が100%にならない場合がある。

- ① 若い世代の方が、以前からプラスチックごみを減らす行動をとっていた人の割合が高かった。
- ② 全体では、これを機にプラスチックごみ問題への関心が高まった人が80%以上いた。
- ③ プラスチックごみ問題への関心が最も高い年齢層は、50～59歳である。
- ④ 女性は男性と比べて、プラスチックごみ問題への関心が高く、具体的な行動をとっている人の割合も高い。

問34 下線部(34)のテーマから資料を探したところ、日本チェーンストア協会のホームページに以下の図7が載っているのを見つけた。この資料から読み取れる内容として最も適当なものを、後の①～④のうちから一つ選べ。

図7 レジ袋辞退率の推移



日本チェーンストア協会ホームページ掲載の資料より作成。毎年3月のレジ袋辞退率を示している。

- ① レジ袋の有料化が義務となった2020年の7月以降に、レジ袋の辞退率はほとんど上昇しなかった。
- ② レジ袋の辞退率は上昇を続け、近年は90%以上を維持している。
- ③ レジ袋の辞退率は、2000年代後半から上昇したが、レジ袋の有料化が義務化されるまでは、50%台で頭打ちとなっていた。
- ④ レジ袋の辞退率が、1年で10ポイント以上低下する時期があった。

問35 下線部(35)のような社会的現象を表す概念として最も適当なものを、後の①～④のうちから一つ選べ。

- ① 無知のヴェール
- ② 共有地の悲劇
- ③ 最後通告ゲーム(最後通牒ゲーム)
- ④ 最大多数の最大幸福